








	سوالات آزمون تیزهوشان ۹۸-۹۹	ردیف
	<p>کدام عبارت، جمله زیر را به بهترین صورت تکمیل می کند؟  به این علت که علامت خطر در مسیر رودخانه خروشان توسط پسرها..... شد، متاسفانه تعدادی از آنها غرق شدند.</p> <p>۱- بدون بررسی      ۲- پی گیری      ۳- شناسایی      ۴- نادیده گرفته</p>	۱
	<p>کوشا سعی می کرد که درآمد خود را مدیریت کند؛ اما..... او بر خرید لوازم غیرضروری او را در مضیقه مالی قرار داد.</p> <p>۱- اصرار      ۲- پیگیری      ۳- کنترل      ۴- کوشش</p>	۲
	<p>رابطه مس و فلز مثل رابطه؟</p> <p>۱- موتور و ماشین      ۲- لوازم خانگی و چوب      ۳- مداد و خودکار      ۴- فلفل و ادویه جات</p>	۳
	<p>رابطه قایق و بادبان مثل رابطه ماشین و ؟</p> <p>۱- موتور      ۲- چرخ (لاستیک)      ۳- سرعت      ۴- جاده</p>	۴
	<p>رابطه آتش و دود مثل رابطه کلمه ها و؟</p> <p>۱- حروف      ۲- جمله      ۳- آواها (اصوات)      ۴- لغت نامه</p>	۵
	<p>عبارت " تو خوبی می کن و در دجله انداز" با کدام گزینه ارتباط معنایی دارد؟</p> <p>۱- در دسر روزگار قسمت هر کس بود      هر که توانگر بود در دسرش بیشتر  ۲- نیست بازی کار حق خود را مباد      آنچه بردیم از تو باز آریم باز  ۳- نابرده رنج گنج میسر نمی شود      مزد آن گرفت جان برادر کار کرد  ۴- هر که به نیکی عمل آغاز کرد      نیکی او روی بدو باز کرد</p>	۶
	<p>از سوال ۷ تا ۱۰ چند جمله به شکل نامرتب داده شده است. انتخاب کدام گزینه سبب ایجاد یک متن هماهنگ می شود؟</p>	

۷	<p>الف) بسیاری از دانشمندان معتقدند که بازگشت به گذشته امکان‌پذیر نیست و نمی‌توان انواع خاصی از تخریب، مثل یخ‌های ذوب شده‌ی قطبی را بازگرداند.</p> <p>ب) در واقع برای از بین بردن این میزان گسترده از گازهای گل‌خانه‌ای که توسط انسان به جو وارد شده، صدها و شاید هزاران سال زمان لازم است.</p> <p>ج) خوشبختانه در سال‌های اخیر نگرانی‌های زیادی در مورد مقابله با گرمایش جهانی در کشورهای مختلف به وجود آمده است.</p> <p>د) اما عده‌ای اعتقاد دارند که این سیاره می‌تواند این زخم را نیز بهبود بخشد، اگر چه برای این کار زمان زیادی لازم است.</p>
۸	<p>الف) ولی ای ادعا نادرست است.</p> <p>ب) شعر بنی‌آدم قطعه شعر مشهوری است که از سعدی برجای مانده است.</p> <p>ج) در برخی از منابع فارسی و انگلیسی گزارش شده که این شعر بر سر در ورودی تالار سازمان ملل متحد در نیویورک با خط نستعلیق طلاکوب، نقش بسته است.</p> <p>د) این قطعه شعر به دلیل مضمون انسان دوستانه‌ای که دارد مورد توجه زیادی واقع شده است.</p>
۹	<p>الف) یکی از این گونه‌ها درختچه‌های گز است که به آن نپکا یا تل‌های گیاهی گفته می‌شود.</p> <p>ب) در این مکان جغرافیایی انواع گونه‌های گیاهی وجود دارد.</p> <p>ج) کویر لوت در جنوب شرقی ایران و هم‌جوار استان کرمان است.</p> <p>د) نپکاها عموماً در مناطقی که سطح آب زیرزمین بالا بوده ظاهر می‌شوند.</p>
۱۰	<p>الف) از این رو ورزش نه تنها به سلامت جسمانی کمک می‌کند؛ بلکه باعث تقویت دستگاه ایمنی و محافظتی بدن می‌شود.</p> <p>ب) سلول‌های دستگاه ایمنی بدن به نام گلبول‌های سفید خون شناخته می‌شوند. این سلول‌ها نقش محافظت از بدن از بیماری‌های عفونی را دارند.</p> <p>ج) تحقیقات اخیر دانشمندان نشان می‌دهد روزانه ۳۰ دقیقه ورزش، میزان گلبول‌های سفید خون را افزایش می‌دهد.</p>
<p>با توجه به اطلاعات در متن سوالات ۱۱ تا ۱۴، گزینه‌ای را انتخاب کنید که به دقیق‌ترین شکل، نتیجه حاصل از متن باشد.</p>	

۱۱	<p>غزل یک نوع خاص از قالب‌های شعراست. غزل چهارده سطر دارد. سطرها باید براساس یک الگوی مشخص هم قافیه باشد. گاهی اوقات شش سطر آخر یک غزل با هشت سطر اول مغایرت دارد. بسیاری از غزل‌ها به سبک عاشقانه هستند. لازمه‌ی یک غزل، این است که باید:</p> <p>۱- به سبک عاشقانه باشد  ۲- یک تضاد در بین سطرها را نشان دهد  ۳- کمتر از چهارده سطر داشته باشد  ۴- به سبک خاصی سطرها هم قافیه باشد</p>
۱۲	<p>زمانی که تعداد زیادی از مردم قصد خرید کالایی را دارند، قیمت آن احتمالاً افزایش می‌یابد. در تابستان تعداد مسافرت‌ها در کشور ما در مقایسه با زمان‌های دیگر افزایش پیدا می‌کند. تعدادی زیادی از خانواده‌ها به سمت مقصدشان رانندگی می‌کنند و برخی شاید هواپیما یا قطار را انتخاب کنند. براساس اطلاعات داده شده، شما می‌توانید پیش‌بینی کنید که:</p> <p>۱- قیمت خودرو در تابستان افزایش پیدا می‌کند.  ۲- قیمت خودرو در زمستان افزایش پیدا می‌کند  ۳- قیمت خودرو در تابستان کاهش پیدا می‌کند  ۴- قیمت خودرو در هیچ فصلی تغییر پیدا نمی‌کند</p>
۱۳	<p>بازیافت زباله‌های خانگی بسیار ضروری است. مکان‌های دفن زباله که زباله‌ها در آن تخلیه می‌شوند. بسیار کمیاب شده‌اند. همچنین تخلیه بازمانده‌ها در اقیانوس‌ها و دریاها باعث آلودگی می‌شود. بازیافت یک روش برای شهرها، جهت درآمدزایی از طریق محصولات قابل بازیافت است؛ و علاوه بر این بازیافت به حفاظت از منابع طبیعی کمک می‌کند.</p> <p>هدف نویسنده از این متن این است که:</p> <p>۱- توضیح می‌دهد بازیافت چیست  ۲- یک داستان تعریف می‌کند  ۳- ارایه دلیل برای اهمیت بازیافت  ۴- توضیح می‌دهد چگونه بازیافت کنیم</p>
۱۴	<p>موج‌های عظیمی که از طریق زلزله یا حرکت لایه‌های زمین ایجاد می‌شود، سونامی نام دارد. لغت سونامی یک واژه ژاپنی به معنی موج‌های بندرگاه است. به این دلیل از این اسم برای نامیدن آن استفاده می‌شود که این موج‌ها اثرات مخرب بر زندگی مردم در شهرهای ساحلی ژاپن می‌گذارند. بهترین عنوان برای متن بالا چیست؟</p> <p>۱- حوادث طبیعی ژاپن  ۲- ریشه لغوی واژه سونامی  ۳- اثرات مخرب سونامی  ۴- موج‌های بندرگاه در ژاپن</p>
	<p>متن زیر را به دقت مطالعه کنید و به سوالات پرسیده شده درباره آن پاسخ دهید.</p> <p>آب و هوای یک منطقه به عوامل پیچیده و گوناگون محیطی مثل ارتفاع، عرض جغرافیایی و ارتباط خشکی و اقیانوسی بستگی دارد. جالب است که اگر زمین کاملاً از خشکی تشکیل شده بود و اگر خشکی از ارتفاع یکسان به وجود آمده بود، دقیقاً آب و هوای یکسانی در سراسر جهان وجود داشت؛ به شرط آن که عرض جغرافیایی ثابت باشد. به دلیل هموار نبودن زمین که باعث تغییر عامل بحرانی تابش خورشید می‌شود، این امر ممکن نیست. بنابراین، تفاوت تابش اشعه‌های خورشیدی، به طور کامل مسئول ایجاد مناطق آب و هوایی است. در قطب شمال و جنوب، منطقه منجمد وجود دارد، در منطقه استوایی، منطقه‌ی حاره‌ای و بین منطقه‌ی استوا و قطب، منطقه‌ی معتدل. در استوا خورشید تقریباً عمود است، بنابراین این منطقه بیشترین واحد گرما را دریافت می‌کند. بالا و پائین استوا، به سمت قطب‌ها، بسته به موقعیت زمین در مدارهایش، اشعه‌ها مایل تر هستند.</p>
۱۵	<p>بهترین عنوان برای این پاراگراف ..... است.</p> <p>۱- عوامل آب و هوا  ۲- مناطق آب و هوایی  ۳- تاثیرات ارتفاع  ۴- تابش خورشیدی</p>

۱۶	در این پاراگراف «معتدل» یعنی .....	۱- ناچیز	۲- محدودیت	۳- بیش از اندازه	۴- میانه
۱۷	کمربندهای آب و هوایی در درجه‌ی اول در اثر ..... به وجود می‌آیند.	۱- زاویه‌ی خورشید	۲- ارتفاع قاره‌ای	۳- تابش جهانی	۴- نسبت اقیانوس به حجم خشکی
۱۸	اشعه‌های خورشید به میزان زیادی ..... غیر مستقیم می‌شوند.	۱- در استوا	۲- در ارتفاعات بالاتر از استوا	۳- هنگامی که زمین در مدارش می‌چرخد	۴- هنگامی که زمین در محورش می‌چرخد
۱۹	به طول کلی مهم‌ترین عامل آب و هوای یک منطقه ..... است.	۱- ارتفاع	۲- جذب خورشیدی	۳- جریان اقیانوسی	۴- عرض جغرافیایی
۲۰	عوامل محلی که بر آب و هوا یک محل خاص اثر می‌گذارند شامل ..... می‌شوند.	۱- تنوع فصلی	۲- ارتفاع	۳- شرایط باد	۴- شرایط خاک
۲۱	عدد بعدی در مجموعه زیر کدام است؟	۱- ۱۰	۲- ۶	۳- ۳	۴- ۰
۲۲	یک مهمانی متشکل از یک مرد و همسر اوست، دو پسر آن‌ها به همراه همسرانشان که هر کدام از خانواده نیز ۴ فرزند دارند، چند نفر در این مهمانی حضور دارند؟	۱- ۸	۲- ۱۲	۳- ۱۴	۴- ۱۶
۲۳	خانمی در سال ۱۳۹۳ در سن ۴۲ سالگی فوت کرده است. اگر وی دو برابر برادر دوقلوی خود زندگی کرده باشد و پس از دو سال از فوت برادرش، ازدواج کرده باشد. او در چه سالی ازدواج کرده است؟	۱- ۱۳۷۴	۲- ۱۳۷۲	۳- ۱۳۶۲	۴- ۱۳۵۲
۲۴	یک میز دارای چهار پایه ۲۱، ۲۰، ۲۰/۵ و ۲۲ سانتی‌متر است، کمترین میزانی که باید از مجموع پایه‌ها کوتاه شود تا هم اندازه شوند چند میلی‌متر است؟	۱- ۳/۵	۲- ۳۵	۳- ۲/۵	۴- ۲۵
۲۵	کارگری هر روز پنجاه هزار تومان به ازای کاری که انجام می‌دهد دریافت می‌کند. به تازگی حقوق ماهیانه او به یک میلیون و هشت صد هزار تومان (شش هزار تومان برای هر ساعت) افزایش پیدا کرده است. اگر او هر ماه بیست و پنج روز سرکار باشد، روزانه چند ساعت کار می‌کند؟	۱- ۱۴	۲- ۱۲	۳- ۱۰	۴- ۸
۲۶	اگر دو قطر مربع را رسم کنید، چند مثلث کوچک و بزرگ تشکیل خواهد شد؟	۱- ۴	۲- ۶	۳- ۸	۴- ۱۰

۲۷	پنج درصد از ۲۰۰۰ معادل ۱۰ درصد از چه عددی است؟	۱-۱۰۰۰۰	۲-۱۰۰۰	۳-۴۰۰۰	۴-۴۰۰۰۰														
۲۸	عقربه‌های یک ساعت در آینه دیده می‌شود، با توجه به جهتی که قرار گرفته به نظر می‌رسد در آینه ساعت ۲:۳۵ است، ساعت چند است؟	۱- ۱۰:۲۵	۲- ۱۱:۳۵	۳- ۲:۳۵	۴- ۱۰:۳۵														
۲۹	کدام عدد می‌تواند جایگزین دو علامت سوال شود؟ $\frac{۸}{?} = \frac{?}{۱۲/۵}$	۱- ۱۱/۲	۲- ۴	۳- ۶۴	۴- ۱۰														
۳۰	حاصل کسر روبرو کدام است؟ $\frac{۹+۱ \times ۶-۳}{۴+۲ \times ۷-۶}$	۱- ۵۷/۵۰	۲- ۷۱/۱۲	۳- ۱	۴- ۵۷/۳۶														
۳۱	جدول زیر تعداد کالای عیب‌دار در یک هفته توسط یک فروشگاه را نشان می‌دهد، میانگین تعداد کالاهای عیب‌دار در طول یک روز چقدر است؟	<table border="1"> <thead> <tr> <th>روز</th> <th>تعداد</th> </tr> </thead> <tbody> <tr> <td>شنبه</td> <td>۸۷</td> </tr> <tr> <td>یکشنبه</td> <td>۹۱</td> </tr> <tr> <td>دوشنبه</td> <td>۱۰۸</td> </tr> <tr> <td>سه‌شنبه</td> <td>۹۸</td> </tr> <tr> <td>چهارشنبه</td> <td>۱۲۱</td> </tr> <tr> <td>پنج‌شنبه</td> <td>۱۰۱</td> </tr> </tbody> </table>				روز	تعداد	شنبه	۸۷	یکشنبه	۹۱	دوشنبه	۱۰۸	سه‌شنبه	۹۸	چهارشنبه	۱۲۱	پنج‌شنبه	۱۰۱
روز	تعداد																		
شنبه	۸۷																		
یکشنبه	۹۱																		
دوشنبه	۱۰۸																		
سه‌شنبه	۹۸																		
چهارشنبه	۱۲۱																		
پنج‌شنبه	۱۰۱																		
۳۲	دروسط یک مربع به مساحت ۹۰ سانتی‌متر مربع، حفره‌ای دایره به شعاع ۳ سانتی‌متر ایجاد شده است، فضای باقی مانده چه قدر است؟ (عدد پی را برابر ۳ فرض کنید).	۱- ۸۱	۲- ۹	۳- ۲۷	۴- ۶۳														
۳۳	خانم کوثری ۲۰ درصد تخفیف برای قبض ۱۸۶/۵۰ دریافت کرد، او چه مبلغی باید پرداخت کند؟	۱- ۱۴۹/۲۰	۲- ۳۷/۳۰	۳- ۱۴۹/۲	۴- ۱۶۶/۵۰														
۳۴	محمد رو به شمال ایستاد است، اگر یک قدم به سمت جلو برود، بعداً کاملاً به راست پیچیده و دو قدم دیگر نیز به جلو رود و سپس دوباره کاملاً به راست بپیچد، حال در مسیر ..... است.	۱- شرق	۲- غرب	۳- شمال	۴- جنوب														

	<p>طاها متولد ۱۳۶۰ و حسام ۱۳۶۲ است، اگر سبحان، کم سن و سال تر از حسام باشد، می توان گفت:</p> <p>۱- طاها مسن تر از حسام و کم سن و سال تر از سبحان است</p> <p>۲- طاها کم سن و سال تر از حسام و مسن تر از سبحان است</p> <p>۳- حسام مسن تر از طاها و مسن تر از سبحان است</p> <p>۴- حسام کم سن و سال تر از طاها و مسن تر از سبحان است</p>	۳۵
	<p>در یک زبان " تانا دونا مکا " به معنی " آب بسیار سرد " ، " تانا نتا " به معنی " آب گرم " و " دونا بلا " به معنی " بسیار خوب " است. کدام کلمه به معنی سرد است؟</p> <p>۱- تانا      ۲- دونا      ۳- مکا      ۴- نتا</p>	۳۶
	<p>اگر " الف " بیشتر از " ب و ج " باشد " ب " بیشتر از " د " و " د " هم بیشتر از " ج " باشد، کدام یک از روابط زیر درست است؟</p> <p>۱- " د " کمتر از " ب "      ۲- " ج " بیشتر از " ب "      ۳- " ب " کمتر از " ج "      ۴- " الف " کمتر از " د "</p>	۳۷
	<p>اگر با کلمات زیر بخواهیم جمله ای مناسب بسازیم، کلمه وسط جمله با کدام حرف شروع می شود؟</p> <p>مردم      نیاز      می کنند      بیش تر از      از      برخی      میل      بدنشان غذا</p> <p>۱- الف      ۲- ب      ۳- م      ۴- ن</p>	۳۸
	<p>اگر با کلمات زیر بخواهیم بهترین جمله را بسازیم، حرف سوم از کلمه از کلمه پنجم کدام است؟</p> <p>کشور      انسانی      است      نیروی      رمز      پیشرفت      ماهر</p> <p>۱- ب      ۲- ش      ۳- ن      ۴- ز</p>	۳۹
	<p>کلمه به معنای " آسیب ناشی از تماس بدن با جسم یا بخار داغ " با کدام حرف شروع می شود؟</p> <p>۱- آ      ۲- ز      ۳- ل      ۴- ت</p>	۴۰
	<p>رابطه با  با  مثل  با ..... است.</p> <p>۱-       ۲-       ۳-       ۴- </p>	۴۱

رابطه با مثل با ..... است.

۴۲

۱-

۲-

۳-

۴-

از سوالات ۴۳ تا ۴۸، زنجیره شکل‌ها با کدام گزینه کامل می‌شود؟

۴۳

۱-

۲-

۳-

۴-

۴۴

۱-

۲-

۳-

۴-

۴۵

۱-

۲-

۳-

۴۶

۱-


۲-

۳-

۴-



۴۷



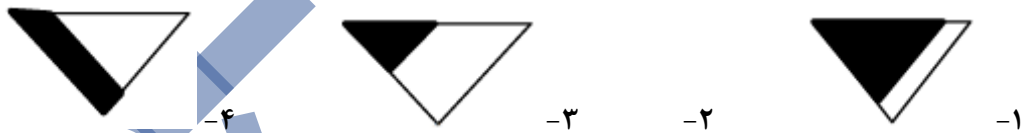
۴۸



در سوالات ۴۹ و ۵۰ یکی از شکل‌ها با بقیه تفاوت دارد. آن را مشخص کنید.

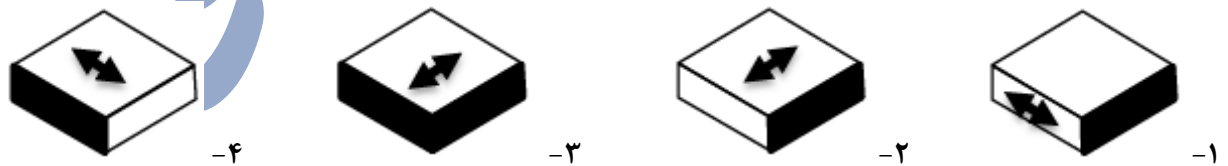


۴۹



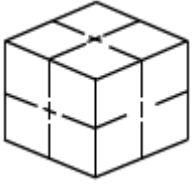
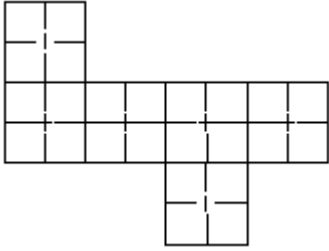
۵۰

در سوالات ۵۱ تا ۵۵ در سمت چپ یک مکعب الگو و باز شده نشان داده شده است. یکی از چهار گزینه حالت تاشده و جمع شده آن را نشان می‌دهد، گزینه مربوط به آن را مشخص کنید.

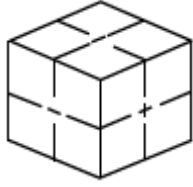


۵۱

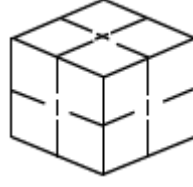




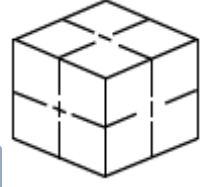
-۴



-۳

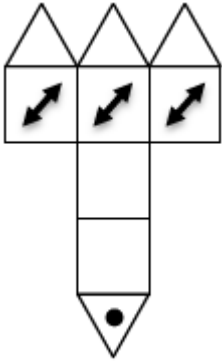


-۲



-۱

۵۲



-۴

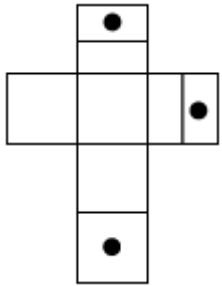


-۳

-۲

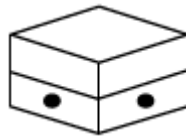
-۱

۵۳

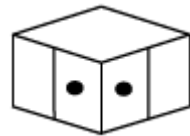


-۴

-۳



-۲



-۱

۵۴

	 	۵۵
<p>از سوال ۵۶ تا ۶۰ در سمت چپ ابتدا یک برگ کاغذ سفید چند بار به شیوه‌هایی که در تصویر مشخص گردیده تا شد. سپس سوراخ‌هایی در آن ایجاد کردیم. کدام گزینه در زمان باز کردن کامل برگه مشاهده خواهد شد.</p>		
	 	۵۶
	 	۵۷
	 	۵۸
	 	۵۹

		۶۰
	<p>در مجموعه اعداد زیر که از چپ به راست چیده شده‌اند، چند مرتبه عدد ۲ بعد از عدد ۳ قرار گرفته است؟</p> <p style="text-align: center;">۵ ۳ ۲ ۷ ۳ ۲ ۹ ۳ ۲ ۶ ۲ ۸ ۳ ۲</p> <p style="text-align: center;">۲-۱      ۳-۲      ۴-۳      ۵-۴</p>	۶۱
	<p>چند کلمه از کلمات زیر با حروف تاریکی ساخته شده است؟</p> <p style="text-align: center;">عالی - ترک - ارک - اری - سری - یاری - کاری - کتاب - حیوان</p> <p style="text-align: center;">۲-۱      ۳-۲      ۴-۳      ۵-۴</p>	۶۲
	<p>متن زیر از کتاب فارسی کلاس پنجم انتخاب شده است. به دقت سوالات ۶۳ تا ۶۷ را پاسخ دهید.</p> <p>پادشاهی با غلامی در کشتی نشست و غلام، هرگز دریا ندیده بود و محنت کشتی نیازموده، گریه و زاری در نهاد و لرزه بر اندامش افتاد؛ چندان که ملاحظت کردند، آرام نمی‌گرفت و ملک از این حال، آزرده گشت. چاره ندانستند. حکیمی در آن کشتی بود، ملک را گفت: فرمان دهی، من او را به طریقی، خامش گردانم. گفت: غایت لطف و کرم باشد.</p> <p>بفرمود تا غلام در دریا انداختند. باری چند، غوطه خورد؛ جامه‌اش گرفتند و سوی کشتی آوردند. به دو دست در سکان کشتی آویخت. چون برآمد، به گوشه‌ای بنشست و آرام یافت.</p>	
	<p>در متن حاضر چند علامت ویرگول "،" آمده است؟</p> <p style="text-align: center;">۷-۱      ۸-۲      ۹-۳      ۱۰-۴</p>	۶۳
	<p>حرف "گ" در سه سطر آخر متن چند باره آمده است؟</p> <p style="text-align: center;">۵-۱      ۶-۲      ۷-۳      ۹-۴</p>	۶۴
	<p>در کل متن بالا حرف "ش" چند بار آمده است؟</p> <p style="text-align: center;">۱۰-۱      ۱۲-۲      ۱۴-۳      ۱۸-۴</p>	۶۵
	<p>در کل متن بالا چند کلمه با حرف "ی" به پایان رسیده است؟</p> <p style="text-align: center;">۱۰-۱      ۱۲-۲      ۱۴-۳      ۱۸-۴</p>	۶۶
	<p>تعداد حروفی که تنها یکبار در سطر دوم متن آمده است، چند تا است؟</p> <p style="text-align: center;">۳-۱      ۴-۲      ۵-۳      ۶-۴</p>	۶۷

در فروشگاه‌های اجناس براساس رنگ و نوع جنس کدگذاری شده است. در جدول زیر کد مربوط به رنگ‌ها و نیز کد هر جنس ارائه شده است. به عنوان مثال کد زنگ زرد "پ" و میز، ۹۲ است. بنابراین کد میز زرد را می‌توان پ ۹۲ در نظر گرفت. براساس جدول زیر به سوالات ۶۸ تا ۷۷ پاسخ دهید.

کد رنگ		کد جنس	
سیاه	ح	صندلی	۶۴
آبی	ب	لامپ	۳۴
قهوه‌ای	ذ	فرش	۲۹
سبز	ج	تابلو	۵۲
خاکستری	الف	پیراهن	۴۶
قرمز	خ	میز	۹۲
زرد	پ	گلدان	۷۳


۶۸	الف ( ۷۳ به معنای ..... است. ۱- گلدان آبی      ۲- گلدان خاکستری      ۳- لامپ آبی      ۴- لامپ خاکستری
۶۹	ذ) ۶۴ به معنای ..... است. ۱- صندلی آبی      ۲- صندلی قهوه‌ای      ۳- پیراهن قهوه‌ای      ۴- پیراهن آبی
۷۰	لامپ قرمز دارای کد ..... است. ۱- ح ۳۴      ۲- ح ۴۳      ۳- ج ۴۳      ۴- خ ۳۴
۷۱	خ) ۹۲ به معنای ..... است. ۱- میز قرمز      ۲- میز خاکستری      ۳- فرش قرمز      ۴- میز خاکستری
۷۲	پیراهن زرد دارای کد ..... است. ۱- پ ۴۶      ۲- ب ۴۶      ۳- پ ۶۴      ۴- ب ۴۶
۷۳	فرش قهوه‌ای دارای کد ..... است. ۱- ق ۲۹      ۲- ف ۲۹      ۳- د ۲۹      ۴- ذ ۲۹
۷۴	ب) ۵۲ به معنای ..... است. ۱- تابلو آبی      ۲- پیراهن آبی      ۳- تابلو بزرگ      ۴- پیراهن زرد
۷۵	الف) ۳۷ به معنای ..... است. ۱- گلدان خاکستری      ۲- گلدان سبز      ۳- گلدان زد      ۴- کداشتباه
۷۶	تابلو قرمز دارای کد ..... است. ۱- ج ۵۲      ۲- چ ۵۲      ۳- ح ۵۲      ۴- خ ۵۲






	کد اشتباه کدام است؟				۷۷
	۴-۴ خ	۳-۳ ج	۲-۲ ح	۱-۱ الف	
	در هر یک از سوالات ۷۸ تا ۸۳، در هر یک از گزینه‌ها دو عدد مشابه هم نوشته شده است. لازم است گزینه‌ای را انتخاب کنید که اعداد دو طرف بیضی با هم متفاوت هستند. شماره گزینه‌ها داخل بیضی نوشته شده است.				
	۳۳۶۹۸۳۹۲۵۱ (۲)	۳۳۶۹۸۳۹۲۵۱	۹۹۶۷۹۲۵ (۱)	۹۹۶۷۹۲۵	۷۸
	۲۵۱۷۲ (۴)	۲۵۱۷۲	۷۹۸۴۳۱۸۵۹ (۳)	۷۹۸۴۳۱۸۵۹	
	۵۹۱۵۴۷۵۱۴۲۵ (۲)	۵۹۱۵۴۷۵۱۴۲۵	۷۱۹۱۹۸۸۷۷۲ (۱)	۷۱۹۱۹۸۸۷۷۲	۷۹
	۹۵۹۳۲۴۷۸۳۵۴۸ (۴)	۹۵۹۳۲۴۷۸۳۵۴۸	۴۹۷۹۹ (۳)	۴۹۷۹۹	
	۳۷۲۷۱۵۸ (۲)	۳۷۲۷۱۵۸	۸۳۳۸۶۸ (۱)	۸۳۳۸۶۸	۸۰
	۹۳۶۹۶۲۴۴۳۵۸ (۴)	۹۳۶۹۶۲۴۴۳۵۸	۷۳۴۴۵۲۷۶۷ (۳)	۷۳۴۴۵۲۷۶۷	
	۶۱۵۱۸۲۳۹۹ (۲)	۶۱۵۱۸۲۳۹۹	۶۴۷۴۶۴۷۲۵ (۱)	۶۴۷۴۶۴۷۲۵	۸۱
	۶۹۹۵۳۷۶۷ (۴)	۶۹۹۵۳۷۶۷	۴۴۶۵ (۳)	۴۴۶۵	
	۳۷۶۷۸۲۶۳ (۲)	۳۷۶۸۷۲۶۳	۳۳۹۴۷۶۳۳۲۲۴ (۱)	۳۳۹۴۷۶۳۳۲۲۴	۸۲
	۹۱۶۸۳۲۵۹۸ (۴)	۹۱۶۸۳۲۵۹۸	۵۷۵۱ (۳)	۵۷۵۱	
	۴۴۳۸۶۷۹۸۹۲۲ (۲)	۴۴۳۸۶۷۸۸۹۲۲	۳۵۱۹۵۸۵۵۸۱۵۹ (۱)	۳۵۱۹۵۸۵۵۸۱۵۹	۸۳
	۳۶۳۲۲۳۴ (۴)	۳۶۳۲۲۳۴	۹۹۸۶۲۲۳۱۱۵۱ (۳)	۹۹۸۶۲۲۳۱۱۵۱	

با توجه به شکل زیر، سوالات ۸۴ تا ۹۴ را پاسخ دهید.

ستون

سطر



	<p>در شکل بالا چند سطر و چند ستون وجود دارد؟</p> <p>۱- ۲۰ سطر و ۱۸ ستون      ۲- ۲۱ سطر و ۱۹ ستون      ۳- ۱۸ ستون و ۲۰ سطر      ۴- ۱۹ سطر و ۲۱ ستون</p>	۸۴
	<p>در سطر پنجم از بالا چند شکل  وجود دارد؟</p> <p>۱- ۲      ۲- ۳      ۳- ۴      ۴- ۱</p>	۸۵
	<p>در سطر چهارم از بالا، مجموع تعداد شکل  و  کدام است؟</p> <p>۱- ۳      ۲- ۴      ۳- ۵      ۴- ۶</p>	۸۶
	<p>در کدام سطر از بالا کلیه شکل ها به صورت  است؟</p> <p>۱- پنجم      ۲- ششم      ۳- هفتم      ۴- هشتم</p>	۸۷
	<p>در سطر دهم از بالا، چند شکل  بعد از  آمده است؟</p> <p>۱- صفر      ۲- ۱      ۳- ۲      ۴- ۳</p>	۸۸

۸۹	در سطر چهارم از پایین، چند شکل <input type="checkbox"/> آمده است؟	۱- صفر ۲- ۱-۲ ۳- ۲-۳ ۴- ۳-۴
۹۰	سطر وسط، از سمت راست با کدام شکل شروع می‌شود؟	۱- <input type="checkbox"/> ۱-۱ ۲- <input type="checkbox"/> ۲-۲ ۳- <input type="checkbox"/> ۳-۳ ۴- <input type="checkbox"/> ۴-۴
۹۱	در کدام سطر از بالا فقط سه شکل پشت سر هم <input type="checkbox"/> وجود دارد؟	۱- هجدهم ۲- شانزدهم ۳- چهاردهم ۴- دوازدهم
۹۲	در ستون آخر از راست چند شکل <input type="checkbox"/> بلافاصله پس از <input type="checkbox"/> آمده است؟	۱- صفر ۲- ۱-۲ ۳- ۲-۳ ۴- ۳-۴
۹۳	در انتهای ستون وسط، کدام شکل قرار دارد؟	۱- <input type="checkbox"/> ۱-۱ ۲- <input type="checkbox"/> ۲-۲ ۳- <input type="checkbox"/> ۳-۳ ۴- <input type="checkbox"/> ۴-۴
۹۴	در سطری که در شکل بالا عبارت سطر مقابل آن نوشته شده است، در مجموع چند شکل <input type="checkbox"/> و <input type="checkbox"/> وجود دارد؟	۱- ۳ ۲- ۴ ۳- ۵ ۴- ۶
در هر یک از سوالات ۹۵ تا ۱۰۰ در هر یک از گزینه‌ها، دو عبارت مشابه مقابل هم نوشته شده است. لازم است گزینه‌ای را انتخاب کنید که عبارت دو طرف بیضی با هم متفاوت هستند. شماره گزینه‌ها داخلی بیضی نوشته شده است.		
۹۵	نمایشگاه نقاشی‌های حمید مراسم سپاسگزاری و تودیع امور بین‌الملل شرکت توانیر رایانه در فرهنگ امروزی	(۱) نمایشگاه نقاشی‌های حمید (۲) مراسم سپاسگزاری و تودیع (۳) امور بین‌الملل شرکت توانیر (۴) رایانه و فرهنگ امروزی
۹۶	سازمان‌های اداری و تجاری آبزیان عنکبوتیان و حشرات انتقال کارخانه‌های دورزا توسعه فضای سبز شهر	(۱) سازمان‌های اداری و تجاری (۲) آبزیان عنکبوتیان و حشرات (۳) انتقال کارخانه‌های دورزا (۴) توسعه فضای سبز شهر
۹۷	مظرات اعتیاد به سیگار اعتلای تعلیم و تربیت تاثیر زبان در مفاهیم و عقاید خرید خودروهای خودکار	(۱) مظرات اعتیاد به سیگار (۲) اعتلای تعلیم و تربیت (۳) تاثیر زبان در مفاهیم و عقاید (۴) خرید خودروهای خودکار

	مکرز تجاری بوستان	(۱)	مکرز تجاری بوستان	
	غزاخوری سنتی ارسباران	(۲)	غزاخوری سنتی ارسباران	۹۸
	کتاب‌های درسی دوره ابتدایی	(۳)	کتاب‌های درسی دوره ابتدایی	
	تخصص‌های گوناگون پزشکی	(۴)	تخصص‌های گوناگون پزشکی	
	بذر چغندر قند	(۱)	بدر چغندر قند	
	صنایع اتومبیل خودرو	(۲)	صنایع اتومبیل خودرو	۹۹
	مجتمع تعاونی‌های روستا	(۳)	مجتمع تعاونی‌های روستا	
	استلاحات و معادل‌های فارسی	(۴)	استلاحات و معادل‌های فارسی	
	فرآورده‌های لبنی	(۱)	فرآورده‌های لبنی	
	آب آشامیدنی محتوری فلوراید	(۲)	آب آشامیدنی محتوری فلوراید	۱۰۰
	اساسنامه سالانه شرکت سالار	(۳)	اساسنامه سالانه شرکت سالار	
	شرکت تولیدی و صادراتی	(۴)	شرکت تولیدی و صادراتی	