


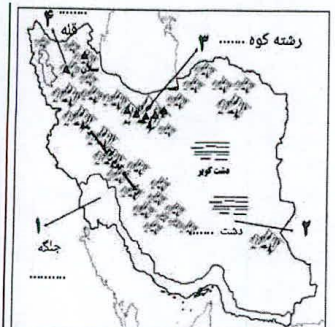


<p>۲۰</p>	<p>بسمه تعالی اداره کل آموزش و پرورش استان کرمان سازمان ملی پرورش استعداد های درخشان اداره آموزش و پرورش شهرستان رفسنجان دبیرستان دوره اول فرزنانگان سال تحصیلی ۱۴۰۱ - ۱۴۰۲</p>	 <p>نام درس: مطالعات اجتماعی نام و نام خانوادگی:</p>	<p>نام دبیر: فاطمه مهدیزاده نام طراح: فاطمه مهدیزاده</p>
<p>۳</p>	<p>نوبت اول دی ماه ۱۴۰۱ پایه: هفتم شماره دانش آموزی: مدت زمان آزمون: ۶۰ دقیقه تاریخ امتحان: ۱۴۰۱/۱۰/۱۲</p>	<p>۱- این جمله بیانگر کدام یک از گزینه های زیر است؟ ((همانطور که ما حق داریم پدر و مادر معلم و... نیز حق بر ما دارند)) الف- حقوق طبیعی ب- حقوق یکسان ج- حقوق متقابل د- حقوق اجتماعی ۲- همه افراد می توانند به تنهایی زندگی کنند. ص <input type="checkbox"/> غ ۳- خانواده در حدی که دارد وسایل زندگی مرا فراهم می کند تا به خوبی رشد کنم. ۴- شکرگزاری، استفاده صحیح از نعمت ها، ۵- من در برابر چه چیز چه کسانی مسئول هستم؟ ۱ ۶- چه زمانی به یک فرد مسئولیت پذیر می گویند؟ ۰/۵ ۷- تبعه یک کشور بودن یعنی چه؟ ۰/۵</p>	
<p>۳</p>	<p>۱- آقای حسینی می خواهد در انتخابات مجلس به عنوان کاندیدا ثبت نام کند. صلاحیت او باید توسط کدام نهاد تایید شود تا او بتواند تبلیغات کند و مردم به او رای بدهند. الف- رهبر ب- مجلس خبرگان ج- شورای نگهبان د- قوه قضائیه ۲- قانون اساسی کشور ما بر اساس اصول اسلامی تدوین شده است. ص <input type="checkbox"/> غ ۳- ماما آن جا می توانیم حق خود را اعمال کنیم که ۴- نمایندگان پس از انتخاب شدن برای شروع کار خود، در مجلس ۵- قانون چیست؟ ۰/۵ ۶- قانون و مقررات به چند دلیل به وجود آمده است (۲ مورد) ۰/۵ ۷- کار مجمع تشخیص مصلحت نظام چیست؟ ۰/۵ ۸- نمایندگان مجلس شورای اسلامی برای چه مدت و چگونه انتخاب می شوند؟ ۰/۵</p>	<p>فصل اول</p> <p>فصل دوم</p>	
<p>۳/۵</p>	<p>۱- دریافت هزینه های پزشکی مانند عمل جراحی ... مربوط به کدام نوع از بیمه ها می شود. الف - بیمه بهداشت و درمان ب- بیمه عمر ج- بیمه از کار افتادگی د- بیمه بیکاری ۲- کدام موسسه در زمان وقوع حوادث طبیعی یا جنگ ها به کمک مردم می شتابد؟ الف - کمیته امداد ب- هلال احمر ج- تامین اجتماعی د- بهزیستی ۳- خداوند همدلی و انسان دوستی را در سرشت ما انسان ها قرار داده است. ص <input type="checkbox"/> غ ۴- موسسه ای که شما را بیمه کرده است ۵- دو وظیفه بیمه مرکزی را بنویسید؟ ۰/۵ ۶- بیمه چیست؟ ۰/۵ ۷- انواع بیمه را نام ببرید؟ ۰/۵ ۸- همیاری یعنی چه؟ ۰/۵ ۹- سازمان جوانان هلال احمر چه سازمانی است؟ ۰/۵</p>	<p>فصل سوم</p>	

<p>۳/۵</p>	<p>۱- کدام یک از موارد زیر به حقوق مصرف کننده ها مربوط نمی شود؟ الف- تصویب قوانین ومقررات ب- استاندارد ج- برچسب مشخصات کالا د- مصرف گرانی ۲- اسراف و ریخت وپاش گناهی بزرگ است . ص <input type="checkbox"/> غ <input type="checkbox"/> ۳- توزیع در لغت به معنی است ۴- کسی که کالا وخدمات را به منظور رفع نیازها وخواسته های خود می خرد ، ۵- عوامل تولید را نام ببرید؟ ۰/۷۵ ۶- مشاغل و فعالیت های اقتصادی در چندگروه طبقه بندی می شوند؟ ۰/۷۵ ۷- درجه صورت نشان مخصوص استاندارد روی یک کالا چاپ می شود؟ ۰/۵ ۸ - مفهوم هریک از علائم زیر را بنویسید. ۰/۵</p>  	<p>فصل چهارم</p>
<p>۲/۵</p>	<p>۱- برای تهیه نقشه های جغرافی از کدام یک از عکس های زیر استفاده می کنند؟ الف- معمولی ب- هوایی ج- دیجیتالی د- ماهواره ای ۲- سواد جزو ویژگی های طبیعی است. ص <input type="checkbox"/> غ <input type="checkbox"/> ۳- با استفاده از می توانیم فاصله واقعی مکان ها را روی زمین محاسبه کنیم. ۴- ایران در قاره آسیا قرار دارد. ۵- نقشه چیست؟ ۰/۵ ۶- کوهپایه چیست؟ ۰/۵ ۷- دامنه شمالی و جنوبی رشته کوه البرز را باهم مقایسه کنید؟ ۰/۵</p>	<p>فصل پنجم</p>
<p>۲/۵</p>	<p>۱- مهمترین وظیفه سازمان حفاظت از محیط زیست کدام است ؟ الف- شناسایی گونه های مختلف گیاهان ب- جلوگیری از آلودگی هوا ۲- در ناحیه معتدل خزری اختلاف دمای شب وروز زیاد است. ص <input type="checkbox"/> غ <input type="checkbox"/> ۳- میزان بارش یک ناحیه را با نمودار نشان می دهند. ۴- مطابق اصل ۵۰ قانون اساسی ، حفاظت از محیط زیست وظیفه ۵- زیستگاه را تعریف کنید؟ ۰/۵ ۶- دو مورد از مناطق حفاظت شده ایران را نام ببرید؟ ۰/۵ ۷- چرا در ناحیه گرم وشرجی سواحل جنوب ایران حالت شرجی به وجود می آید؟ ۰/۵</p>	<p>فصل ششم</p>
<p>۲</p>	<p>نام محل های مشخص شده روی نقشه را بنویسید</p> 	<p>نقشه</p>
	<p>نمره با عدد: نمره با حروف:</p>	
	<p>نام ونام خانوادگی مصحح:</p>	
	<p>امضاء:</p>	

فضل اول

- ۱- ج
- ۲- غلط
- ۳- توان مالی
- ۴- قدر و قیمت ها را داشتن
- ۵- خداوند - خودم - دیگران - محیط زندگی و عالم آفرینی
- ۶- وقتی نوری و طایف و تکالیف خود را خوب انجام می دهد می گویند او فرصت پذیری است .
- ۷- تبعه یک کشور بران یعنی تعلق به آن کشور داشتن و از قوانین و مقررات آن کشور پیروی کردن .

فضل دوم

- ۱- ج
- ۲- صحیح
- ۳- معایب مافوق
- ۴- اداری شوند
- ۵- هرگاه مقررات بیوسیدیک نهاد را در صلاحیت مثل مجلس تقویب رگور ، نام «ماندن» به خود می گویند .
- ۶- برقراری نظم - صفا حقوق افراد .
- ۷- در مواردی که شورای نگهبان در مجلس شورای اسلام به توافق در باره تقویب یک قانون نمی رسند ، جمع کشیدن صحت نظام تقیمها برای میگرد .
- ۸- به مدت یک سال از سوی مردم مناطق مختلف کشور .


فضل سوم

- ۱- الف
- ۲- ب
- ۳- صحیح
- ۴- بیمه (بیمه نژاد)
- ۵- بیمه مرکزی قوانین و مقررات لازم برای موسسات بیمه تدوین می کند و هدایت و نظارت بر فعالیت و عملکرد آنها را به عهده دارد .
- ۶- بیمه یک قرارداد بین بیمه گر و بیمه شونده است ، موسسه بیمه گر تعهد می کند در قبال دریافت حق بیمه از بیمه شونده خسارت های ناشی از حوادث معینی را جبران کند .
- ۷- بیمه ایاری و اقبیاری .
- ۸- معنی سن از درک احساس فرد حاکم ریه ببرد او شبکایم .
- ۹- جمعیت هلال المرحله بنام سازمان جوانان هلال المرحله در دانش آموزان یا دانشجو ها بر به طور اطلب عضو این سازمان می شوند برای همکاری با هلال المرحله می بینند .

فصل چهارم

- ۱- د
- ۲- مصحح
- ۳- بخش کردن
- ۴- معرفت کننده
- ۵- منابع طبیعی - سرمایه - نیروی انسانی
- ۶- کثرت و زری - صنعت - خدمات
- ۷- اگر کیفیت کارایی توسط زمان ملی استاندارد ایران تأیید شود، نشان کشورهای استاندارد درون ~~کشور~~ ^{آن} چاپ می شود.

- ۸



علامت استاندارد

می تواند باز ایست شود.

فصل پنجم

- ۱- ب
- ۲- ؟ [استباه ناسیج]
- ۳- مقیاس خطه
- ۴- جنوب غرب
- ۵- نقشه وسیله مهم در جغرافیا است زیرا از طریق آن اطلاعات زیاده به دست می آوریم. نقشه ها محل دقیق پدیده های طبیعی مانند کوه - رود - جنگل و پدیده های انسانی مثل راه ها - پل ها و سد ها را نشان می دهند.
- ۶- زمین های حاصله از رسوبات کوه ها و از رسوبات دریا به دست می آید بطور کلی رود -
- ۷- دامنه ها در شمال: رو به دریا است، برف و باران فراوان می بارد، پوشش گیاهی از جنگل های انبوه است. در جنوب: کم رطوبت، فقط در فصل زمستان برف و باران دریافت می کند، پوشش گیاهی کمتر است.

فصل ششم

- ۱- ج
- ۲- غلط
- ۳- ستونی
- ۴- بخوس
- ۵- منطقه نیریزی که در آن گیوه های از لیا های و جانوران خاص زندگی می کنند.
- ۶- منطقه جنگل های صحرای آب های خلیج فارس و درخت اژدرن در فارس و استانته آنگوه در لرستان.
- ۷- ~~زیادتی از گیاهان و جانوران در این منطقه وجود دارد و تنوع بسیار بالایی دارد.~~ چون به دلیل وجود دریا و تنوع آب و هوای آن نم هوای باران است حالت شرجی بوجود می آید.

نقشه

- ۱- خوزستان
- ۲- لوت
- ۳- البرز
- ۴- هند