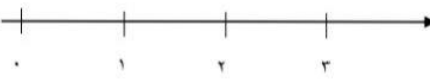
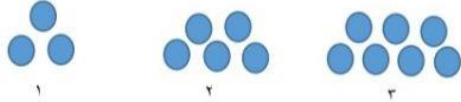
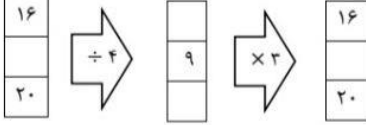





نام و نام خانوادگی: کلاس چهارم الف	به نام خالق زیبایی ها دبستان دخترانه شهید پورجندقی دی ماه ۱۴۰۱	آزمون ریاضی نوبت اول طراح: ندا فارسی
۱	<p>به سوالات مطرح شده در مورد عدد ۲۶۸ و ۴۷۹ و ۵۱۳ پاسخ دهید.</p> <p>* چند رقمی است؟</p> <p>* رقم ۷ در عدد فوق چه مرتبه ای دارد؟</p> <p>* ارزش بزرگترین رقم این عدد چند است؟</p> <p>* عدد بالا را به صورت گستره بنویسید؟</p>	
۲	<p>به عدد بنویسید.</p> <p>شش میلیون و هفتاد و نه هزار و هشتصد .....</p>	
۳	<p>کامل کنید .</p> <p>بزرگترین عدد فرد ۶ رقمی با رقم های غیر تکراری:</p> <p><math>\frac{1}{4}</math> واحد مانده به عدد ۲ را روی محور نشان دهید.</p>	
۴	<p>با کشف الگو و نوشتن رابطه بدون رسم شکل تعداد دایره های شکل ۶ را به دست آورید.</p>	
۵	<p>ماشین مقابل را کامل کنید .</p>	
۶	<p>جا های خالی را کامل کنید.</p> <p>نصف ۲۰۰۰ تا می شود؟</p> <p>ثلث ۹۰۰ تا می شود؟.....</p> <p>یک میلیون یعنی .....دسته ی ۱۰۰۰۰۰۰ تا می</p>	<p><math>\frac{2}{3} = \frac{4}{\quad} = \frac{\quad}{27}</math></p>
۷	<p>مقایسه کنید. (&lt;=&gt;)</p>	<p><math>\frac{2}{3} \square \frac{30}{12}</math>      <math>\frac{25}{25} \square \frac{\quad}{25}</math>      <math>300000 \square</math> سی میلیون</p> <p><math>\frac{4}{18} \square \frac{10}{18}</math>      <math>\frac{3}{20} \square \frac{3}{14}</math>      <math>\frac{5}{5} \square 1</math></p>

	$\left( 2 \times \frac{2}{10} \right) - \frac{2}{10} =$ $\frac{24}{26} =$ ساده کنید	<p>فرایندی</p> $\begin{array}{r} 657 \quad   \quad 4 \\ \hline \end{array}$ <p>تکنیکی</p> $\begin{array}{r} 9725 \quad   \quad 32 \\ \hline \end{array}$	<p>حاصل عبارت های زیر را به دست آورید.</p> $\begin{array}{r} \times \quad 328 \\ \quad 903 \\ \hline \end{array}$
	$345 - 126 = \dots - \dots =$ $222 \div 54 = \dots - \dots =$	$197 + 437 = \dots - \dots =$ $58 \times 460 = \dots - \dots =$	<p>حاصل تقریبی عبارت های زیر را به دست آورید .</p>
	<p>مینا <math>\frac{3}{8}</math> گل های یک مزرعه را فروخت و <math>\frac{2}{16}</math> گل های مزرعه را به جشن نیکوکاری هدیه کرد. چه کسری از گل های مزرعه تمام شده است؟ چه مقدار از گل ها هنوز برداشت نشده است؟</p>		
	<p>تقریب هزارگان</p> $27340 \rightarrow$	<p>تقریب تن</p> $4985 \rightarrow$	<p>تقریب بزنید.</p>
	 $2 \times \frac{3}{8} =$	 $\frac{4}{5} = \frac{8}{10}$	<p>شکل مربوط به عبارت ها را کامل کرده و رنگ آمیزی کنید.</p>  <p>واحد</p> $1 \frac{2}{4}$
	<p>در یک جعبه کلوچه 20 ردیف 15 تایی کلوچه چیده شده است میخواهیم کلوچه ها را بین 6 مدرسه تقسیم کنیم به هر مدرسه چند کلوچه می رسد؟</p>		