

اداره کل آموزش و پرورش استان خوزستان
اداره آموزش و پرورش منطقه دزفول
دبیرستان غیر دولتی حجاب

مهر آموزشگاه	رشته: علوم انسانی	پایه: دهم	درس: اقتصاد	سوالات ارزشیابی نوبت اول
	مدت آزمون: ۷۵ دقیقه	تاریخ آزمون: ۱۴۰۱/۱۰/۱۹	روز آزمون: دوشنبه	شامل ۱۵ سوال در ۴ صفحه
	نام دبیر: خانم محقق	نام پدر:	نام خانوادگی:	نام:

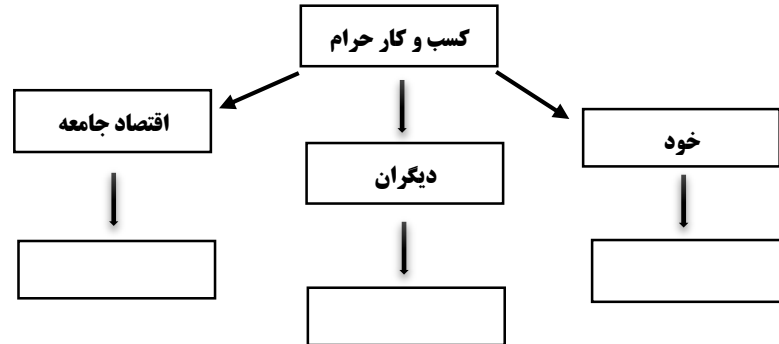
بارم	سوالات	ردیف
۱	<p>صحيح يا غلط بودن عبارتهای زیر را مشخص کنید .</p> <p>(الف) تعاونی ها مراحل کم و بیش مشابهی با شرکت ها دارند.</p> <p>(ب) تولید خدمات در اقتصاد نیازمند عوامل تولید نیست.</p> <p>(ج) منحنی تقاضا همیشه و در همه حال ، حالت صعودی دارد.</p> <p>(د) وظیفه قانونی پرداخت مالیات بر مصرف بر عهده تولید کنندگان و فروشندگان است.</p> <p>صحيح <input type="checkbox"/> غلط <input type="checkbox"/></p> <p>صحيح <input type="checkbox"/> غلط <input type="checkbox"/></p> <p>صحيح <input type="checkbox"/> غلط <input type="checkbox"/></p> <p>صحيح <input type="checkbox"/> غلط <input type="checkbox"/></p>	۱
۱	<p>گزینه مناسب را انتخاب کنید .</p> <p>(الف) کسب و کاری که متعلق به دو نفر یا بیشتر است که شریک نامیده می شوند.</p> <p>(۱) شرکت <input type="checkbox"/> (۲) شراکت <input type="checkbox"/> (۳) شخصی <input type="checkbox"/> (۴) تعاونی <input type="checkbox"/></p> <p>(ب) دانش اقتصاد از مفهوم کامل تری برای تفکر درباره هزینه ها استفاده می کند که نام دارد.</p> <p>(۱) هزینه در رفته <input type="checkbox"/> (۲) قید بودجه <input type="checkbox"/> (۳) کمیابی <input type="checkbox"/> (۴) هزینه فرصت <input type="checkbox"/></p> <p>(ج) تقاضا برای یک کالای نرمال، به صورت مثبت با..... ارتباط دارد.</p> <p>(۱) قیمت کالا <input type="checkbox"/> (۲) شرایط بازار <input type="checkbox"/> (۳) درآمد <input type="checkbox"/> (۴) سلیقه افراد <input type="checkbox"/></p> <p>(د) کدام نوع از مالیات ها با ایجاد شفافیت، فرار مالیاتی را کاهش می دهد.</p> <p>(۱) مالیات بر دارایی <input type="checkbox"/> (۲) مالیات بر مصرف <input type="checkbox"/> (۳) مالیات بر درآمد <input type="checkbox"/> (۴) مالیات بر ارزش افزوده <input type="checkbox"/></p>	۲
۱/۵	<p>جاهای خالی را با کلمات مناسب کامل کنید .</p> <p>(الف) محدوده عمل موسسات غیر انتفاعی و خیریه گاهی و گاهی ملی و حتی است.</p> <p>(ب) دولت ها برای اداره امور کشور با نوجه به درآمد ها و هزینه هایشان، نیاز به یک برنامه دارند که در قالب نشان داده می شود.</p> <p>(ج) حقوق و عوارض گمرکی مالیات هر کشور بر صادرات و واردات کالاهای مختلف است که با نام نیز شناخته می شود.</p> <p>(د) برای تعامل قدرتمند با دیگران، کشورها ناگزیرند میان بهره برداری از مزیت های موجود از سویی و خلق مزیت های جدید، در جهت افزایش دست به بزنند.</p>	۳
۲	<p>به سؤالات زیر پاسخ کوتاه دهید . (هر مورد ۵/۰ نمره)</p> <p>(الف) هزینه هایی که پرداخت شده و شما نمی توانید آن را باز گردانید چه نام دارد؟</p> <p>(ب) یک شرکت تولیدی بهتر است درون مرز امکانات تولید، تولید کند یا خارج از مرز امکانات تولید؟</p> <p>(ج) مالیات برای تامین مالی اهداف و پشتیبانی از کدام فعالیت های عمومی دولت ضروری است؟ ذکر (۲ مورد)</p> <p>(د) وابستگی در تامین کالاهای ضروری و راهبردی چه نتیجه ای خواهد داشت؟</p>	۴

کار آفرین کیست؟

۱

۵

اثرات زیانبار و نامطلوب کسب و کارهای حرام در موارد زیر را بیان کنید.



۱/۵

۶

جدول زیر را کامل کنید.

معایب کسب و کار شخصی	مزایای کسب و کار شخصی

۲

۷

قید بودجه چیست؟

۱

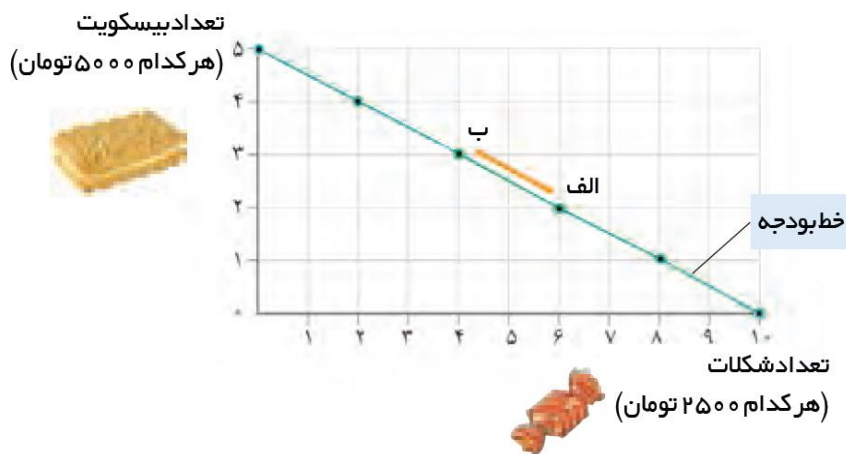
۸

با توجه به نمودار خط بودجه زیر به سوالات داده شده پاسخ دهید.

الف) بده بستان بین نقاط الف و ب چگونه است؟

ب) اگر از نقطه ب به سمت نقطه الف حرکت کنیم و یا بالعکس، چه تغییری در مقدار انتخاب شده هر یک از این دو کالا

(بیسکویت و شکلات) روی می دهد؟



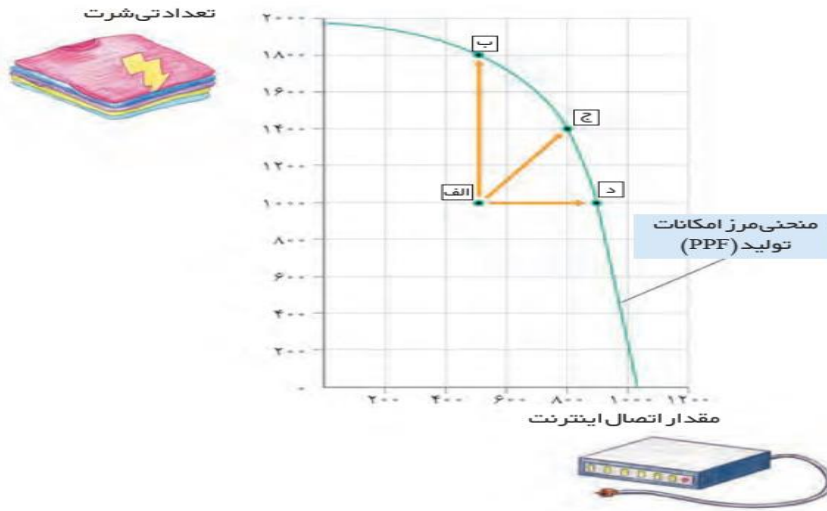
۲

۹

در چه صورت اقتصاد یک کشور یا یک شرکت کارا است؟ توضیح دهید.

۱/۵

۱۰



با توجه به نمودار فوق با سوالات زیر پاسخ دهید.

الف) نقطه الف در زیر منحنی نشان دهنده چیست؟

ب) با جابه جا شدن از نقطه د به نقطه ج و ب به ترتیب چه تعداد تی شرت بیشتری تولید می شود؟

۱

۱۱

در چه شرایطی بازار، بازار رقابتی خواهد بود؟

۱/۵

۱۲

با توجه به مندرجات جدول زیر، به سوالات مطروحه پاسخ دهید.

مقدار عرضه بستنی (S)	مقدار تقاضای بستنی (D)	قیمت بستنی
۰	۱۶	۰
۲	۱۴	۵۰۰
۵	۱۱	۱۰۰۰
۸	۸	۱۵۰۰
۱۱	۵	۲۰۰۰
۱۴	۲	۲۵۰۰
۱۶	۰	۳۰۰۰

الف) قیمت تعادلی کدام است؟

ب) مقدار تعادلی کدام است؟

۱

۱۳

۱	مالیات بر مصرف چیست؟		۱۴
۱	اگر اصل مزیت نسبی و مزیت مطلق رعایت نشود چه مشکلاتی پیش خواهد آمد؟		۱۵
۲۰	موفق باشید - محقق		
	نام و نام خانوادگی دبیر: تاریخ و امضا:	نمره به عدد: نمره به حروف:	نمره تجدیدنظر به عدد: نمره تجدیدنظر به حروف:

بسمه تعالی								
کلیددرس : اقتصاد	رشته : علوم انسانی							
شهرستان : دزفول	پایه : دهم							
تاریخ برگزاری : ساعت ۸ صبح روز دوشنبه	در دی ماه							
	سال تحصیلی ۱۴۰۲ - ۱۴۰۱							
	مورخ : ۱۹ / ۱۰ / ۱۴۰۱							
	مدت : ۷۵ دقیقه							
ردیف	سوالات	بارم						
۱	صحيح يا غلط بودن عبارتهای زیر را مشخص کنید . الف) صحيح (ب) غلط (ج) غلط (د) صحيح	۱						
۲	گزینه مناسب را انتخاب کنید . الف) ۲) شراکت (ب) ۴) هزینه فرصت (ج) ۳) درآمد (د) ۴) مالیات بر ارزش افزوده	۱						
۳	جاهای خالی را با کلمات مناسب کامل کنید . الف) محلی - جهانی (ب) بودجه (ج) تعرفه های گمرکی (د) استقلال و اقتدار اقتصادی - انتخاب بهینه	۱/۵						
۴	به سؤالات زیر پاسخ کوتاه دهید . (هر مورد ۰/۵ نمره) الف) هزینه های در رفته نام دارند ب) هیچکدام ، باید در مرز امکانات تولید، متمرکز شود ج) ذکر (۲ مورد) امنیت - دفاع - امور قضایی - آموزش و بهداشت عمومی د) می تواند موجب بهانه جویی و سلطه رقیب یا دشمن و نهایتا ضعف و وابستگی کشور شود	۲						
۵	کار آفرین کسی است که با نوآوری و خطرپذیری، محصولات جدیدی تولید و عرضه می کند یا راه های جدیدی برای تولید کشف می کند	۱						
۶	دور کردن برکت از زندگی - ظلم به هموعان - ضرر رساندن به اقتصاد جامع	۱/۵						
۷	<table border="1"> <tr> <td>معایب کسب و کار شخصی</td> <td>مزایای کسب و کار شخصی</td> </tr> <tr> <td>بار سنگین مسئولیت</td> <td>راه اندازی آسان و هزینه های نسبتا اندک</td> </tr> <tr> <td>مشکل تامین مالی</td> <td>آزادی عمل و سهولت در تصمیم گیری</td> </tr> </table>	معایب کسب و کار شخصی	مزایای کسب و کار شخصی	بار سنگین مسئولیت	راه اندازی آسان و هزینه های نسبتا اندک	مشکل تامین مالی	آزادی عمل و سهولت در تصمیم گیری	۲
معایب کسب و کار شخصی	مزایای کسب و کار شخصی							
بار سنگین مسئولیت	راه اندازی آسان و هزینه های نسبتا اندک							
مشکل تامین مالی	آزادی عمل و سهولت در تصمیم گیری							
۸	قید بودجه: وقتی شما مقدار مشخص و محدودی پول برای خرج کردن دارید، در این حالت می گوئیم شما یک قید بودجه دارید. و به دلیل اینکه بودجه تان محدود است، شما مجبورید بین گزینه های خود بده - بستان کنید	۱						
۹	الف) در نقطه ب ما می توانیم ۳ عدد بیسکویت به ارزش ۱۵ هزار تومان و ۴ عدد شکلات به قیمت ۱۰ هزار تومان بخریم ب) چنانچه از نقطه الف به نقطه ب حرکت کنیم، از کل بودجه (۲۵ هزار تومان) می توانیم بیسکویت بیشتر و شکلات کمتری خریداری کنیم. و اگر از نقطه ب به سمت نقطه الف بریم در این صورت بر تعداد شکلات های خریداری شده ما اضافه می شود و در عوض بیسکویت کمتری می توانیم خریداری کنیم.	۲						
۱۰	اگر یک شرکت یا یک کشور، هر فرصتی را برای استفاده بهتر از منابع به کار گیرد، بدون آنکه وضع دیگران بدتر شود، اقتصاد آن کشور کاراست؛ یعنی شرکت یا کشور از منابع موجود خود، بیشترین استفاده را می برد. در این صورت حداقل بیش از یک کالا یا خدمت می توان در دسترس مردم قرار داد؛ بدون آنکه کالاها یا خدمات دیگر کاهش پیدا کنند	۱/۵						

۱	الف) = نقطه الف ترکیب تلاقی تی شرت و اتصال اینترنت را برای زمانی که دو کارگر به هر خانه فرستاده می شوند، نشان میدهد ۵۰۰ خانه به اینترنت متصل شده اند و ۱۰۰۰ تی شرت تولید شده اند. تولید در این نقطه ناکار است. ب) = با جابه جا شدن از نقطه د به نقطه ج = ۴۰۰ تی شرت و با جابه جا شدن از نقطه د به نقطه ب ۸۰۰ تی شرت بیشتر تولید خواهد شد.	۱۱
۱/۵	در بازار هر محصول، گاه تعداد فروشندگان و خریداران به قدری زیاد است که حضور و رفتار عریک از عرضه کنندگان و تقاضا کنندگان به نسبت کل بازار بسیار کوچک خواهد بود و در عمل، هیچ یک از طرفین به تنهایی در شکل گیری قیمت تأثیر گذار و به عبارت دیگر قیمت گذار نیستند. در این صورت بازار را به اصطلاح بازار رقابتی می نامند	۱۲
۱	با توجه به مندرجات جدول زیر، به سوالات مطروحه پاسخ دهید. الف) قیمت تعادلی = ۱۵۰۰ ب) مقدار تعادلی = ۸	۱۳
۱	مالیاتی است که مصرف کنندگان کالاها یا خاص در زمان خرید آن کالا (به همراه قیمت آن کالا) پرداخت می کنند. بدین ترتیب اگر شما میزان بیشتری از آن کالا مصرف کنید، در نهایت مالیات بیشتری نیز پرداخت می کنید	۱۴
۱	اگر اصل مزیت نسبی و مزیت مطلق رعایت نشود: اولاً از منابع و سرمایه ها به بهترین نحو ممکن استفاده نمی شود که به نوعی هدر رفت آنها محسوب می شود (چرا که منابع کمیاب هستند) - ثانیاً با تولید محصولات کمتر و بی کیفیت تر، رفاه جامعه کاهش می یابد	۱۵
۲۰	موفق باشید - محقق	