

تاریخ آزمون ۱۴۰۲ / ۰۳ / ۷

عنوان درس:

تعداد صفحات:

بسمه تعالی

اداره‌ی آموزش و پرورش شهرستان خواف

دبستان غیردولتی نوآوران اندیشه

نام و نام خانوادگی: .....

نام آموزگار: الهه دلیر

کلاس: چهارم

موفقیت تصادفی نیست! موفقیت یعنی: تلاش، استقامت، یادگیری، مطالعه، لداکاری و بیشتر از همه، عشق به آن چیزی که انجام می‌دهید.

۱- اعداد زیر را به حروف و رقم بنویسید؟

بیست و شش میلیون و هفتصد و هشتاد و سه هزار و سیصد و چهل و یک

۸۵۱۳۰۴۷۰۴

۲- بزرگترین عدد شش رقمی بدون تکرار ارقام و صفر را بنویسید؟

۳- حاصل جمع و تفریق‌های زیر را به صورت اعشاری می‌نویسید:

$$2\frac{4}{10} - 1\frac{1}{5} =$$

$$15 + 1\frac{3}{5} =$$

$$2\frac{1}{5} - 1\frac{8}{10} =$$

$$6 - 4,2 =$$

۴- حاصل ضرب‌ها و تقسیم‌های زیر را می‌نویسید:

$$7533 \overline{) 31}$$

$$944 \overline{) 14}$$

$$\begin{array}{r} 78 \\ \times 59 \\ \hline \end{array}$$

$$\begin{array}{r} 235 \\ \times 490 \\ \hline \end{array}$$

۵- دانش آموزان ساعت ۸:۱۰ به مدرسه رسیدند و ساعت ۹:۳۰ از آنجا خارج شدند. آن‌ها چند دقیقه در مدرسه بودند؟

تاریخ آزمون ۱۴۰۲ / ۰۳ / ۷

عنوان درس:

تعداد صفحات:

بسمه تعالی

اداره ی آموزش و پرورش شهرستان خواف


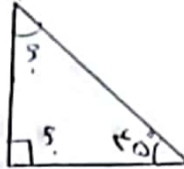
دبستان غیردولتی نوآوران اندیشه

نام و نام خانوادگی:

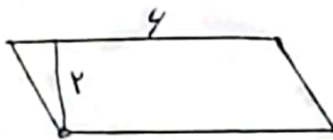
نام آموزگار: الهه رکنی

کلاس: چهارم


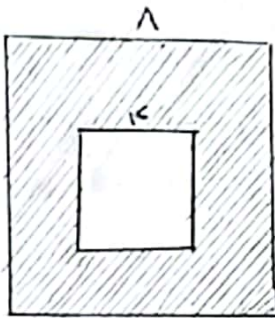
۶- اندازه زاویه های خواسته شده را بنویسید:



۷- مساحت شکل های زیر را حساب کنید:



۸- محیط و مساحت سمت رنگی را حساب کنید:



مساحت:

مساحت:

محیط:

۹- دمای هوای یک شهر در شش ماه در جدول زیر آمده است. نمودار خطی شکلت آن را رسم کنید:

شهر سرد	سردار	تبریز	خرارد	اردبیل	نوردین
۲۷	۳۱	۲۹	۲۶	۲۲	۲۴