




مرکز ملی پرورش استعدادهای درخشان و دانش پژوهان جوان	محل مهر آموزشگاه	نام درس: مطالعات اجتماعی نام دبیر: عبده زاده پایه: هشتم
اداره آموزش و پرورش ناحیه ۲ سنندج		
نام آموزشگاه: دبیرستان دوره اول شهید بهشتی		
نام و نام خانوادگی:	تعداد صفحه: ۲	تعداد سوال: ۲۰
زمان: ۶۰ دقیقه	ساعت شروع: ۹:۳۰	تاریخ امتحان: ۱۴۰۲/۰۳/۰۱

ردیف	متن سوالات	بارم
۱	<p>۱-۱. همکاری نکردن در گناه نوعی تعاون است. <input type="radio"/> صحیح <input type="radio"/> غلط</p> <p>۲-۱. کدام یک از جملات زیر در ارتباط با تعاونی صحیح نیست.</p> <p>الف: منافع بطور یکسان بین اعضاء تقسیم می شود. <input type="radio"/> ب: افراد به اندازه سرمایه خود حق رای دارند. <input type="radio"/></p> <p>ج: تلاش برای یک هدف مشترک <input type="radio"/> د: قدرت در تصمیم گیری مساوی است. <input type="radio"/></p> <p>۳-۱. قدرت و حکومت غزنویان بر چه اساسی استوار بود؟</p> <p>الف) به کارگیری وزیران توانمند ایرانی <input type="radio"/> ب) استفاده از نیروی نظامی <input type="radio"/></p> <p>ج) رابطه مناسب با مردم <input type="radio"/> د) تشکیلات منظم اداری و سیاسی <input type="radio"/></p> <p>۴-۱. هم اکنون چند کشور عضو پیمان اقتصادی آکو هستند؟</p> <p>الف) ۷ کشور <input type="radio"/> ب) ۸ کشور <input type="radio"/> ج) ۹ کشور <input type="radio"/> د) ۱۰ کشور <input type="radio"/></p> <p>۵-۱. طولانی ترین رود جهان چه نام دارد؟</p> <p>الف) دانوب <input type="radio"/> ب) نیل <input type="radio"/> ج) آمازون <input type="radio"/> د) می سی سی پی <input type="radio"/></p> <p>۶-۱. حدود جمعیت جهان در قاره آمریکا زندگی می کنند.</p> <p>الف) ۵ درصد <input type="radio"/> ب) ۱۰ درصد <input type="radio"/> ج) ۱۵ درصد <input type="radio"/> د) ۲۰ درصد <input type="radio"/></p>	۳
۲	<p>۱-۳. مالیات و بودجه را تعریف کنید.</p> <p>۲-۳. لایحه بودجه در کجا تصویب می شود؟ اگر بین مجلس و شورای نگهبان اختلافی بر سر تصویب قانون صورت گیرد کدام نهاد آن را برطرف می کند؟</p>	۳
۳	<p>۱-۳. پس از سلطان محمود چه کسی به قدرت رسید و سرانجامش چه شد؟</p> <p>۲-۳. حکومت سلجوقیان در دوره به اوج قدرت رسید.</p> <p>۳-۳. چه کسی مدارس نظامیه را بنیاد نهاد؟</p>	۲
۴	<p>۱-۴. به تصویر گنبد سلطانیه، مسجد جامع ورامین و ارگ علیشاه تبریز دقت کنید. شباهت های آنها چیست؟ و از کدام فنون معماری و هنرها، به منظور ساختن و زیباسازی آنها استفاده شده است؟</p> <p>.....</p> <p>.....</p>	۱
	  	
	<p>گنبد سلطانیه</p> <p>ارگ علیشاه تبریز</p> <p>مسجد جامع ورامین</p>	

۱	<p>۱-۵. رصدخانه مراغه به دستور کدامیک از ایلخانان مغول ساخته شد؟ الف) غازان خان <input type="radio"/> ب) الجایتو <input type="radio"/> ج) هلاکو خان <input type="radio"/> د) ابوسعید <input type="radio"/></p> <p>۲-۵. حکومت تیموریان سرانجام با ظهور حکومت در ایران از میان رفت.</p>	۵
۲	<p>۱-۶. مزایا و معایب <u>دلته‌ها</u> را بنویسید؟</p> <p>۲-۶. کدام یک از کشورهای زیر جزو بهره‌های اقتصادی نیست؟ الف: چین <input type="radio"/> ب: هنگ کنگ <input type="radio"/> ج: سنگاپور <input type="radio"/> د: تایوان <input type="radio"/></p> <p>۳-۶. اکثریت جمعیت استرالیا و نیوزلند را مهاجران کدام کشورهای اروپایی تشکیل می دهند؟ الف) انگلیسی و فرانسوی <input type="radio"/> ب) انگلیسی و ایرلندی <input type="radio"/> ج) ایتالیایی و فرانسوی <input type="radio"/> د) ایتالیایی و ایرلندی <input type="radio"/></p>	۶
۳	<p>۱-۷. چرا جنوب غربی آسیا منطقه‌ای پرتنش است؟ (۲ مورد را توضیح دهید.)</p> <p>۲-۷. از لحاظ جمعیت و وسعت دو کشور ایران و پاکستان را با هم مقایسه کنید.</p>	۷
۲	<p>۱-۸. کدام یک از کشورهای اروپایی زیر آب‌وهوای مدیترانه‌ای ندارد؟ الف: ایتالیا <input type="radio"/> ب: انگلیس <input type="radio"/> ج: اسپانیا <input type="radio"/> د: فرانسه <input type="radio"/></p> <p>۲-۸. مهمترین علل عقب‌ماندگی قاره آفریقا را بنویسید (۱ مورد داخلی و ۱ مورد خارجی را تشریح کنید).</p>	۸
۳	<p>۱-۹. مهمترین رود آمریکای جنوبی است و مهم ترین رود آمریکای شمالی است.</p> <p>۲-۹. آمریکای شمالی و جنوبی را از لحاظ اقتصادی با هم مقایسه کنید.</p>	۹
۲۰	*موفق و موید باشید*	

۱-۱: صحیح

۲-۱: ب - افراد به اندازه سرمایه خود حق رأی دارند.

۳-۱: ب - استفاده از نیروی نظامی

۴-۱: د - آکسور

۵-۱: ب - نیل

۶-۱: ج - لیا درود

۱-۲: مالیات پولی است که بر طبق قانون، افراد و مؤسسات به دولت می پردازند تا در جهت اداره امور کشور مورد استفاده قرار بگیرد
بوده است که دولت در آنه درآمدها و هزینه های یک کشور را برای یک سال، تعیین می کند.

۲-۲: مجلس شورای اسلامی

صحیح تشخیص مصلحت نظام

۱-۳: پس از سلطان محمود، پسرش سلطان مسعود حکومت را به دست گرفت. آلر که سلطان مسعود فرمانروایی بی باک و جسور بود اما تدبیر پدر را نداشت. او از ملجوعان شکست خورد و مدتی بعد توسط سلاطین شورشی خود به قتل رسید.

۲-۳: آلب ارسلان

۳-۳: قواعد نظام الملک

۱-۴: این بناها برای گنبد و ایوانه بادگیر برای تنگ کردن هوا در فصل گرم هستند.
از فنون کج بیری، کاشی کاری، نلارگری و فلزکاری در ساخت آنها استفاده شده است.

۱-۵: ج - هملاکوخان

۲-۵: صفویان

۱-۶: مزایا: دلتاها زمین های مناسبی برای کشاورزی بوده و جمعیت انبوهی را در خود جای داده اند.
معایب: ساکنان دلتاها همواره در معرض خطرانی چون طوفان های دریایی، طغیان رود و سیلاب هستند.

۲-۶: الف - چین

۳-۶: ب - انگلیسی و ایرلندی

ادامه در صفحه بعد

۷-۱: بخش عمده‌ای از منابع انرژی مورد نیاز کشورهای صنعتی و راه‌های مهم حمل و نقل دریایی در این منطقه واقع است. به همین دلیل این منطقه مورد توجه قدرت‌های بزرگ استکباری جهان است.
رژیم اشغالگر قدس (اسرائیل) با حمایت آمریکا و انگلیس علاوه بر سرکوب مردم مظلوم فلسطین و اشغال سرزمین‌های همسایه، به توطئه و دشمنی با مسلمانان کشورهای منطقه می‌پردازد.

۷-۲: جمعیت ایران ۸۰ میلیون نفر و پاکستان ۸۰ میلیون نفر جمعیت دارد. پس جمعیت پاکستان بیشتر است.
وسعت: وسعت کشور ایران از پاکستان بیشتر است.

۸-۱: ب - انگلیس

۸-۲: خارجی: از مهم‌ترین علل عدم پیشرفت قاره آفریقا، استعمار کشورهای اروپایی و غارت منابع آن‌ها بوده داخلی: ضعف‌های داخلی و حکومت‌های وابسته و استبدادی نیز از علل عدم پیشرفت این قاره است.

۹-۱: آمازون - می‌سی‌سی‌پی

۹-۲: کشورهای ایالات متحده آمریکا و کانادا در آمریکای شمالی از نظر اقتصادی جزء کشورهای پیشرفته صنعتی جهان محسوب می‌شوند. این کشورها از تولیدکنندگان و معادنکنندگان تجهیزات صنعتی و ماشین‌آلات خودرو، صنایع غذایی و ... هستند. آمریکای جنوبی و مرکزی از نظر منابع طبیعی و ذخایر معدنی بسیار غنی هستند اما این کشورها به دلایل مختلف نتوانسته‌اند به پیشرفت‌های صنعتی در حد آمریکای شمالی دست یابند.